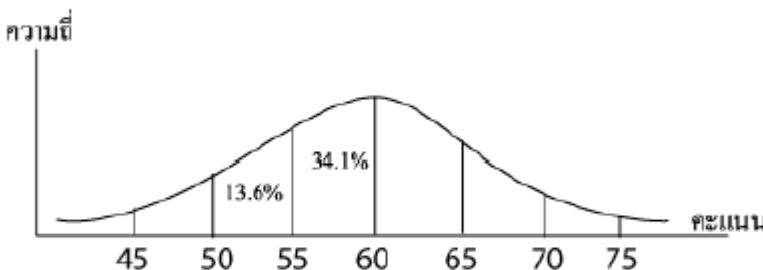


กลุ่มนิเทศ ติดตามและประเมินผลการจัดการศึกษา สพ.น.นครปฐม เขต 1

เครื่องมือประเมินคุณภาพนักเรียน ตามแผนการนิเทศการศึกษา ครั้งที่ 2 ภาคเรียนที่ 2 ปีการศึกษา 2553

คำชี้แจง ให้นักเรียนเลือกคำตอบที่ถูกต้องที่สุดเพียงคำตอบเดียว

1.	<p>การนำคำทับศัพท์ภาษาอังกฤษมาใช้ในข้อใด ที่ทำให้ภาษาไทยมีวงศัพท์เพิ่มขึ้น</p> <ol style="list-style-type: none"> <li>๑. มาเรียนอยู่ในกรุงเทพฯ ยูนิเวอร์ซิตีที่ทันสมัย</li> <li>๒. ซัมเมอร์แม่เรียกตัวกลับมาช่วยทำไร่นาอยู่ที่บ้านหนองใหญ่</li> <li>๓. ชาวบ้านก็ด้อยการศึกษาถิ่นแต่ปลาร้าที่ไม่พาสเจอร์ไรซ์</li> <li>๔. ให้มาเป็นฟาร์เมอร์ ดาวว่ามันไม่ใช่ มันไม่ใช่ตัวตนที่แท้จริงของดาว</li> </ol>
2.	<p>ข้อใด<u>ไม่ใช่</u>ลักษณะของความคิดสร้างสรรค์</p> <ol style="list-style-type: none"> <li>๑. คิดนอกกรอบ</li> <li>๒. คิดเล็กคิดน้อย</li> <li>๓. คิดพลิกแพลง</li> <li>๔. คิดหลากหลาย</li> </ol>
3.	<p>น้องบอกว่าลืมไม่ได้ใจมันทุกข์ เพราะน้องชุกใจเศร้าเฝ้าให้หวาน          อยากรู้น้องคิดใหม่...ใครซักชวน ขึ้นทางด่วนเดินจากซากอวอร์ด          คำที่ขีดเส้นใต้ในคำประพันธ์ข้างต้นใช้คำในข้อใดแทนได้โดยใจความสำคัญไม่เปลี่ยน</p> <ol style="list-style-type: none"> <li>๑. คร่ำครวญ</li> <li>๒. รัญจวน</li> <li>๓. ก่ำกรวด</li> <li>๔. หอมหวาน</li> </ol>

4.	<p>นักเรียนห้องหนึ่ง เป็นนักเรียนชาย <math>\frac{5}{9}</math> ของนักเรียนทั้งห้อง มีนักเรียนหญิงที่เป็นนักกรีฑา อยู่ 0.5 ของนักเรียนหญิง ถ้านักเรียนหญิงในห้องนี้เป็นนักกรีฑา 8 คน จะมีนักเรียนชายในห้องนี้กี่คน</p> <ol style="list-style-type: none"> <li>1. 18</li> <li>2. 20</li> <li>3. 22</li> <li>4. 24</li> </ol>
5.	<p>กล่องกระดาษรูปสี่เหลี่ยมลูกบาศก์ที่มีขนาดภายในกว้าง 21 เซนติเมตร บรรจุลูกบอลลูกหนึ่งได้พอดี อยากรหาว่าปริมาตรของอากาศภายในกล่องที่อยู่ล้อมรอบบอลลูกนั้นก็ลูกบาศก์เซนติเมตร</p> <ol style="list-style-type: none"> <li>1. 4,400 ลูกบาศก์เซนติเมตร</li> <li>2. 4,410 ลูกบาศก์เซนติเมตร</li> <li>3. 4,420 ลูกบาศก์เซนติเมตร</li> <li>4. 4,430 ลูกบาศก์เซนติเมตร</li> </ol>
6.	<p>คะแนนสอบวิชาภาษาอังกฤษ ของนักเรียนห้องหนึ่ง มีการแจกแจงปกติ ค่าเฉลี่ยเลขคณิตเท่ากับ 60 คะแนน และส่วนเบี่ยงเบนมาตรฐานเท่ากับ 5 คะแนน แสดงพื้นที่ใต้โค้งปกติได้ดังนี้</p>  <p>ถ้ามีนักเรียนเข้าสอบ 44 คน ผู้ที่ได้คะแนนน้อยกว่า 65 คะแนน มีกี่คน</p> <ol style="list-style-type: none"> <li>1. 35 คน</li> <li>2. 37 คน</li> <li>3. 38 คน</li> <li>4. 39 คน</li> </ol>

7. ภาพการทดสอบหาแป้งที่ตำแหน่งปิดกระดาศของใบไม้ที่อยู่ในต้นเดียวกัน เพื่อให้ใบไม้ทุกใบ ได้รับแสงเป็นเวลา 4 ชั่วโมง



จากภาพ การออกแบบการทดลองนี้กำหนดให้สิ่งใดเป็นตัวแปรต้น

1. ปริมาณแป้ง
2. ตำแหน่งของใบไม้
3. ชนิดของกระดาศ
4. ระยะเวลาที่ได้รับแสง

8. ตาราง สายพันธุ์ของหอยที่พบในป่าชายเลนที่มีความหนาแน่นของต้นไม้แตกต่างกัน

ความหนาแน่นของต้นไม้ (จำนวนต้นต่อไร่)	สายพันธุ์ของหอยที่พบ
979	A B C D
395	A C
125	A D

จากตาราง ถ้าป่ามีความหนาแน่นของต้นไม้ลดลงจะส่งผลกระทบต่อหอยสายพันธุ์ใดเป็นอันดับแรก

1. A
2. B
3. C
4. D

9. 3. ในการจำแนกประเภทของสารเป็น สารละลาย คอลลอยด์ และสารแขวนลอย ควรพิจารณาโดยใช้เกณฑ์ในข้อใด

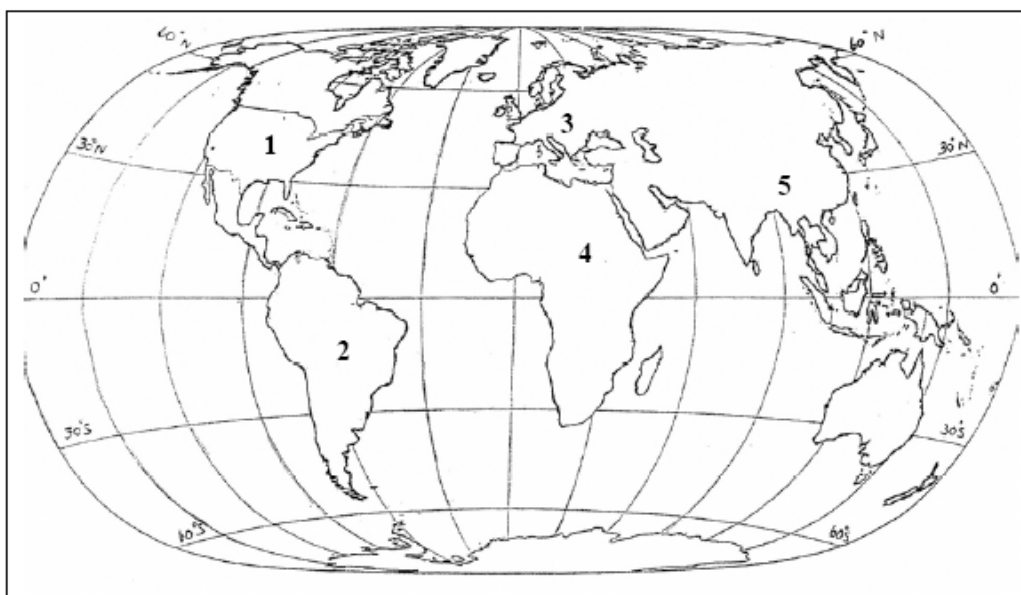
1. สี
2. ความขุ่น
3. องค์ประกอบ
4. ขนาดอนุภาค

อ่านกลุ่มคำตอบต่อไปนี้แล้วตอบคำถามข้อ 10

คำตอบกลุ่มที่ 1		คำตอบกลุ่มที่ 2		คำตอบกลุ่มที่ 3	
ลำดับ ที่	ภูมิปัญญา/ ค่านิยม	ลำดับ ที่	สังคมวัฒนธรรม	ลำดับ ที่	สถาบันสังคม
1	นารักอย่างไทย / จิตใจงดงาม	1	แหล่งการเรียนรู้	A	สถาบันศาสนา
2	ลูกประคบ สมุนไพร	2	วัฒนธรรม	B	สถาบันการศึกษา
3	ความรู้คู่ คุณธรรม	3	สหธรรม	C	สถาบันครอบครัว
4	การลงแขก	4	สังคมเมือง	D	สถาบันเศรษฐกิจ
5	การจัดตั้ง พิพิธภัณฑ์บ้าน ชาวสวน	5	สังคมชนบท	E	สถาบันการ ปกครอง

10. คุณย่าฝึกสอนมารยาทในการกราบไหว้ให้หลานแฝดทั้ง 2 ตามค่านิยมในข้อใด เป็นวัฒนธรรมประเภทใด และอยู่ในสถาบันใด


อ่านกลุ่มคำตอบและข้อมูลจากแผนที่ต่อไปนี้แล้วตอบคำถามข้อ 11



คำตอบกลุ่มที่ 1		คำตอบกลุ่มที่ 2		คำตอบกลุ่มที่ 3	
เลขที่ลำดับข้อ	ลักษณะสำคัญ/ความสำคัญ	เลขที่ลำดับข้อ	ชื่อลุ่มแม่น้ำสำคัญ	ตัวอักษรกำกับข้อ	ชื่อทวีป
1	ป่าดงดิบกว้างใหญ่ที่สุดในโลก	1	มิสซิสซิปปี มิสซูรี	A	เอเชีย
2	แหล่งแร่เหล็ก ถ่านหินคุณภาพดีและเขตอุตสาหกรรมหนัก	2	อิระวดี โขง	B	ยุโรป
3	เขตรวม แหล่งผลิตข้าวเจ้า ยางพารา ป่าสนน้ำมัน และแร่ดีบุกที่สำคัญของโลก	3	ไนล์	C	อเมริกาเหนือ
4	ทะเลทรายที่กว้างใหญ่ที่สุดในโลกและแหล่งน้ำมัน	4	ไรน์ โรเน เอลเบ	D	อเมริกาใต้
5	ทุ่งหญ้าเลี้ยงแกะพันธุ์ชนคุณภาพดีที่สุดของโลก	5	แอมะซอน	E	แอฟริกา
6	ทุ่งข้าวสาลี ข้าวโพด ที่กว้างใหญ่ที่สุดของโลก	6	เมอเรย์ คาร์ลิง	F	ออสเตรเลีย

11.	พื้นที่บริเวณหมายเลข 1 มีความสำคัญอย่างไร แม่น้ำสายใดสร้างความอุดมสมบูรณ์ให้พื้นดินบริเวณนี้ และพื้นที่แห่งนี้อยู่ในทวีปใด
12.	นักเรียนคนใดต่อไปนี้ เมื่อเติบโตขึ้นจะเป็นพลเมืองที่ดีในสังคมไทย 1. ในการเลือกตั้งประธานนักเรียน มุกตัดสินใจเลือกพลอยเพราะพลอยเป็นคนมีความรับผิดชอบ ทั้งๆ ที่ไม่ได้เป็นเพื่อนกลุ่มเดียวกับกับตน 2. หลังจากปิดการแข่งขันกีฬา นิลนำเพื่อนไปกินเลี้ยงเพราะตนมีฐานะดี 3. ทุกคนต่างรักแก้ว เพราะแก้วมักจะเกรงใจผู้อื่น 4. แม้จะมีเรื่องราวใดๆ เกิดขึ้น มรกตก็ไม่รู้สึกทุกข์ร้อน

13	<p>Look at the sign below.</p>	<p>ดูภาพแล้วตอบคำถามข้อ 13-14</p>	<p>What does this sign mean?</p> <ol style="list-style-type: none"> <li>1. Stand near the bin.</li> <li>2. Throw your trash here.</li> <li>3. Buy this kind of basket here.</li> <li>4. This bin is useful.</li> </ol>
			
14	<p>Where can you see this sign?</p> <ol style="list-style-type: none"> <li>1. In a public park</li> <li>2. In a field</li> <li>3. In the kitchen of a house</li> <li>4. In a hotel room</li> </ol>		
<p>ข้อ 15-16 เป็นคำถามที่สัมพันธ์กัน นักเรียนต้องตอบคำถามให้ถูกต้องทั้งสองข้อ</p>			
15	<p>A. How do you go to school?</p> <ol style="list-style-type: none"> <li>1. I live near my school.</li> <li>2. I go to school on foot.</li> <li>3. I went to school by bus.</li> <li>4. I go to school with my friend.</li> </ol>		
16	<p>This means that ____.</p> <ol style="list-style-type: none"> <li>1. I walk</li> <li>2. I ride a bicycle</li> <li>3. I go to school every day</li> <li>4. My friend and I go to school by bus</li> </ol>		